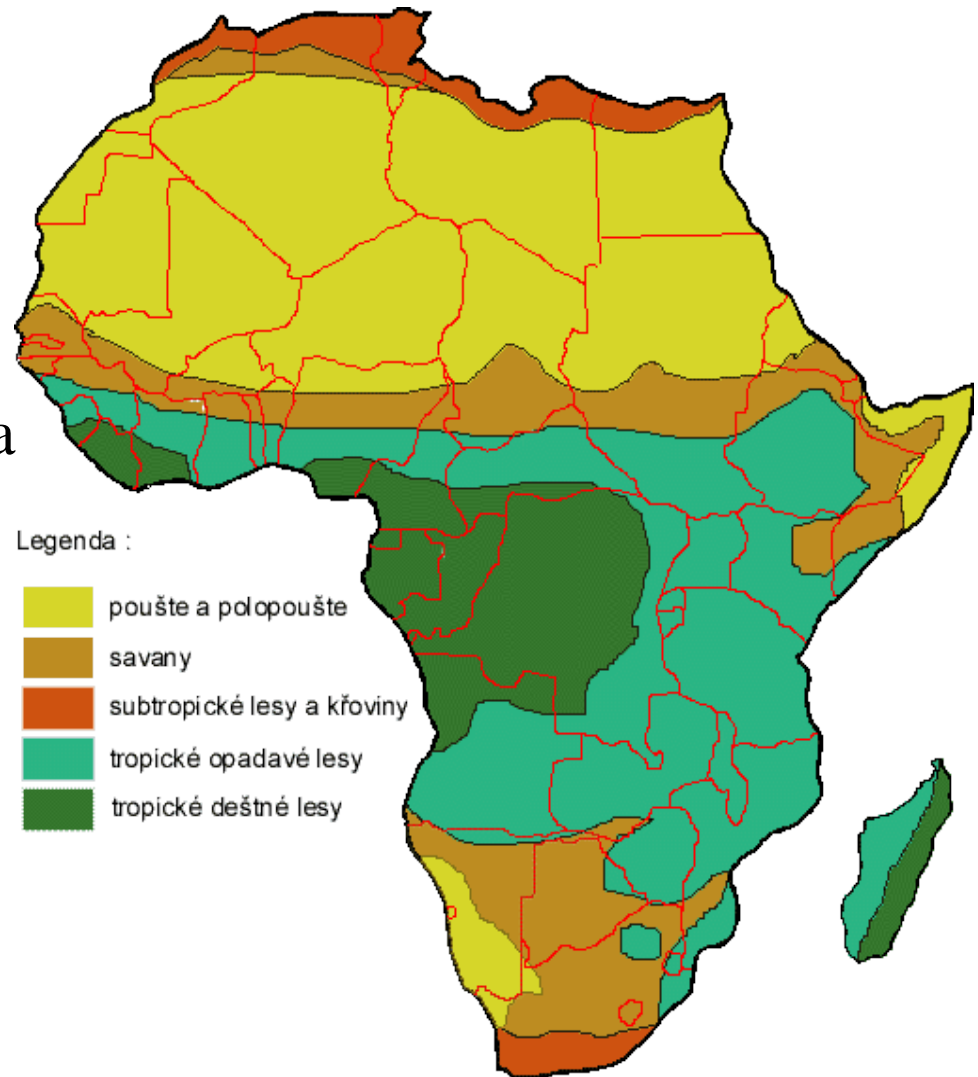




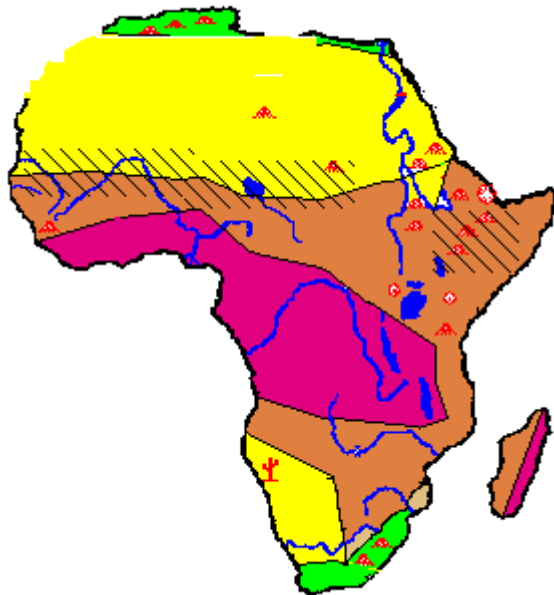
# VEGETACE AFRIKY



- **Tropický deštný les:** Konžská pánev, vzácná dřeva (mahagon, eben)
  - **Savany:** nejrozlehlejší, baobab, NP
  - **Pouště:** sukulenty, palma datlová
  - **Středomořská vegetace:** sever a jih (korkový dub, vavřín aj.)
- + výšková stupňovitost



# Vegetační oblasti v mapě Afriky

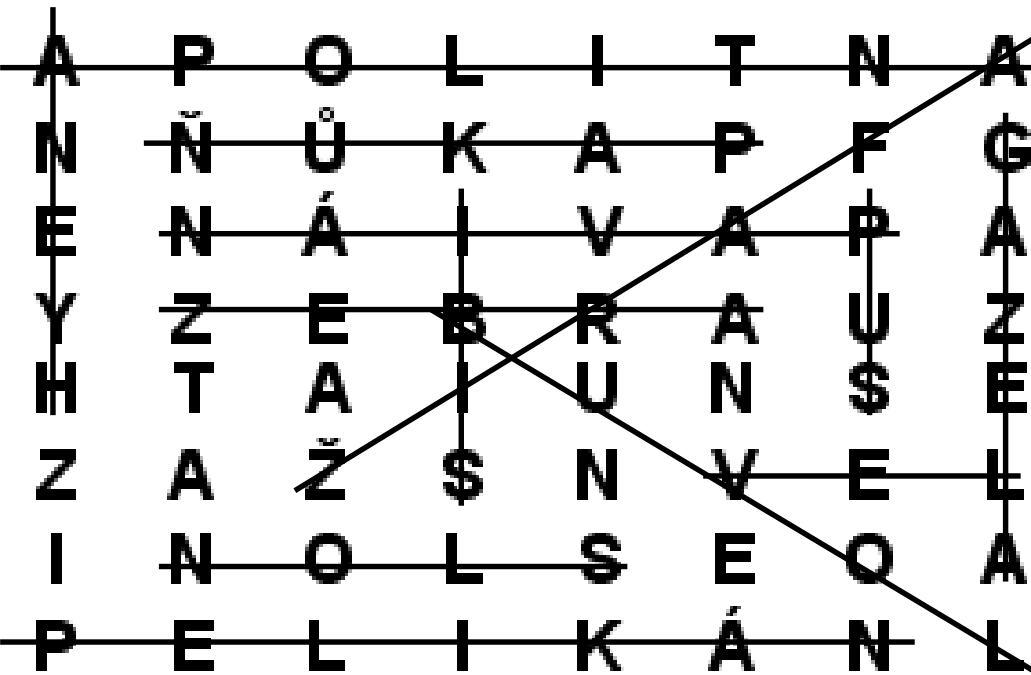


- **Tropický deštný les a střídavě vlhký les**
  - a) rostlinstvo: vzácné dřeviny, liány
  - b) živočišstvo: gorila, šimpanz, lemur
  - c) zemědělské produkty: káva, kakao, dřevo
- **Savany**
  - a) rostlinstvo: akácie, baobab, traviny
  - b) živočišstvo: lev, žirafa, slon
  - c) zemědělské produkty: obilniny, pastva
- **Pouště a polopouště**
  - a) rostlinstvo: kaktusy, byliny
  - b) živočišstvo: fenek, velbloud, štír
  - c) zemědělské produkty: palma datlová, fíky
- **Subtropické rostlinstvo**
  - a) rostlinstvo: cypřiš, vavříň, korkový dub
  - b) živočišstvo: ibis, volavky, gazela, makak
  - c) zemědělské produkty: bavlník, olivovník, vinná réva

V osmisměrce můžete najít třináct afrických zvířat. Ze zbývajících písmen sestavte jméno afrického státu, kde jsou velké národní parky:

<b>A</b>	<b>P</b>	<b>O</b>	<b>L</b>	<b>I</b>	<b>T</b>	<b>N</b>	<b>A</b>
<b>N</b>	<b>Ň</b>	<b>Ů</b>	<b>K</b>	<b>A</b>	<b>P</b>	<b>F</b>	<b>G</b>
<b>E</b>	<b>N</b>	<b>Á</b>	<b>I</b>	<b>V</b>	<b>A</b>	<b>P</b>	<b>A</b>
<b>Y</b>	<b>Z</b>	<b>E</b>	<b>B</b>	<b>R</b>	<b>A</b>	<b>U</b>	<b>Z</b>
<b>H</b>	<b>T</b>	<b>A</b>	<b>I</b>	<b>U</b>	<b>N</b>	<b>S</b>	<b>E</b>
<b>Z</b>	<b>A</b>	<b>Ž</b>	<b>S</b>	<b>N</b>	<b>V</b>	<b>E</b>	<b>L</b>
<b>I</b>	<b>N</b>	<b>O</b>	<b>L</b>	<b>S</b>	<b>E</b>	<b>O</b>	<b>A</b>
<b>P</b>	<b>E</b>	<b>L</b>	<b>I</b>	<b>K</b>	<b>Á</b>	<b>N</b>	<b>L</b>

# Řešení: TANZANIE



- BUVOL
- ANTILOPA
- HYENA
- PAKŮŇ
- GAZELA
- PELIKÁN
- SLON
- ZEBRA
- PAVIÁN
- LEV
- SUP
- IBIS
- ŽIRAFKA